
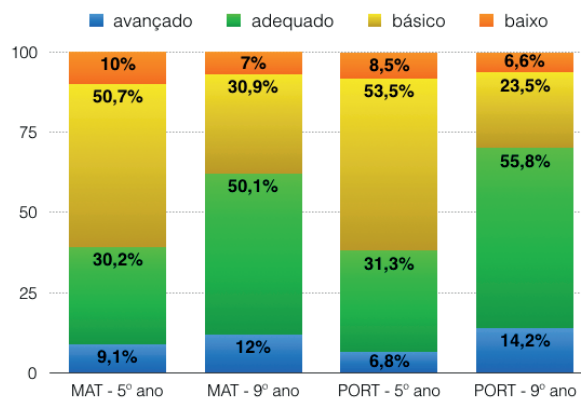


ALUNOS EM SITUAÇÃO ADEQUADA DE APRENDIZAGEM



DISTRIBUIÇÃO DOS ALUNOS POR NÍVEL

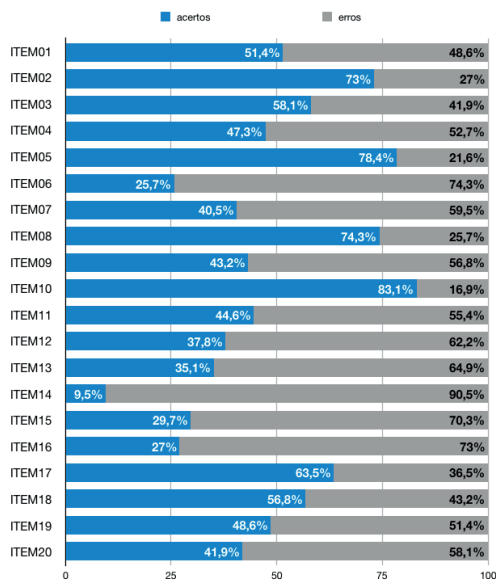


PONTOS DE CORTE DA ESCALA DE PROFICIÊNCIA

Níveis de Desempenho	Intervalo de Proficiência	
	5º ANO	9º ANO
Baixo	Menor que 200	Menor que 175
Básico	Entre 201 e 240	Entre 176 e 240
Adequado	Entre 241 e 310	Entre 241 e 290
Avançado	Maior que 310	Maior que 290

Ano	Nº de alunos	Baixo (< N1)	Básico (N1,N2)	Adequado (N3)	Avançado (N4>)
5º	42	14,3%	26,2%	47,6%	11,9%
9º	100	4%	28%	51%	17%

PERCENTUAL DE ACERTOS POR ITEM

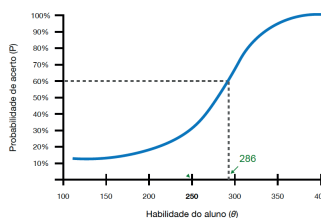


DESEMPENHO DOS ALUNOS POR ITEM

1 Um trabalhador recebe hoje um salário de 180 reais por semana. Se ele tivesse 100% de aumento, seu salário seria de quantos reais?

- A) 80
- B) 180
- C) 280
- D) 360

CURVA CARACTERÍSTICA DO ITEM



ACERTOS E DISTRIBUIÇÃO DAS ESCOLHAS

